

EXCELL TABLOLAMA

1.

	A	B
1	Adı	Aldığı Not
2	Zehra	50
3	İsmail	100
4	Savaş	75
5	Zeliha	80
6	Sinem	90

Yukarıdaki Excel tablosunda en **yüksek** notu aşağıdaki formüllerden hangisi verir?

- a) =Topla(B2:B6) b) =Mak(B2:B6)
c) =Min(B2:B6) d) =Mak(B2;B6)

2.

	A	B
1	Adı	Aldığı Not
2	Zehra	50
3	İsmail	100
4	Savaş	75
5	Zeliha	80
6	Sinem	90

Yukarıdaki Excel tablosunda en **düşük** notu aşağıdaki formüllerden hangisi verir?

- a) =Topla(B2:B6) b) =Mak(B2:B6)
c) =Min(B2:B6) d) =Mak(B2;B6)

3. Satırlar ve sütunların kesişmesiyle oluşan kutular aşağıdakilerden hangisidir?

- A) Formül
B) Hücre
C) Veri
D) Sekme

4. Aşağıdakilerden hangisi elektronik tablola ve hesaplama programıdır ?

- A) Word B) Powerpoint
C) Excel D) Publisher

5.

	A	B	C	D	E	F	G	H	I	J	K
1							M	Y	s	T	
2		2	5	1	2	Toplama	53	8	81	142	
3		30	1	2	3	Ortalama	10,6	2,66667	16,2	10,9231	
4		3	70	5		Maksimum	30	5	70	70	
5		3				Minumum	2	1	1	1	
6		15				Say-dolu	5	5			
7						Say-Boş	0				
8						Değer Say	2				
9											

Aşağıdakilerden hangisi seçilen hücre adresidir?

- A) C5 B) A3 C) B2 D) C8

6.

	A	B	C	D
1	TOPLAMA İŞLEMİ			
2	1. SAYI	2. SAYI	3. SAYI	SONUÇ
3	15	20	25	60
4	3	4	5	12
5	45	5	45	95
6	3	3	3	9
7	345	546	457	1348

Yandaki excel çalışmasında D7 hücresine sonucu hesaplayan formül aşağıdakilerden hangisidir?

- A) =A7+B7+C7
B) A7+B7+C7=
C) =7A+7B+7C
D) 7A+7B+7C=

7. Microsoft excel programı ne için kullanılır?

- A) Yazı düzenleme
B) Hesaplama ve tablola
C) Slayt yapma
D) Ders çalışma

8.

	A	B	C	D	E	F	G	H	I	J	K
1							Mavi	Yeşil	Sarı	Tüm Renkli Alan	
2		2	5	1	2	Toplama	53	8	81	142	
3		30	1	2	3	Ortalama	10,6	2,66667	16,2	10,92307692	
4		3	70	5		Maksimum	30	5	70	70	
5		3				Minumum	2	1	1	1	
6		15				Say-dolu	5	5			
7						Say-Boş	0				
8						Değer Say	2				
9											

Aşağıdakilerden hangisi G2 hücresindeki bilgidir?

- A) 53 B) 5 C) 30 D) 142

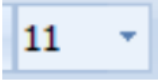
	A	B	C	D
10				
11	ÇARPMA İŞLEMİ			
12	<u>SAYI 1</u>	<u>SAYI 2</u>	<u>SAYI 3</u>	<u>SONUÇ</u>
13	4	5	2	40
14	1	2	3	6

Yandaki excel çalışmasında sonucu kırk olan hücre için çarpma işleminin sonucunu hesaplayan formül aşağıdakilerden hangisidir?

- A) =A4XB5XC2
- B) A13XB13XC13=
- C) =A13*B13*C13
- D) A4*B5*C2=

10.

Excel'de aşağıdaki butonun görevi nedir?



- A) Stil
- B) Yazı Tipi Boyutu
- C) Yazı Tipi Kalınlaştır
- D) Yazı Tipi

11. Excel programında formül yazmaya aşağıdaki karakterlerden hangisi ile başlanır?

- A) +
- B) -
- C) =
- D) %

12.

	A	B	C	D	E	F	G	H	I	J	K
1							Mavi	Yeşil	Sarı	Tüm Renkli Alan	
2		2	5	1	2	Toplama	53	8	81	142	
3		30	1	2	3	Ortalama	10,6	2,66667	16,2	10,92307692	
4		3		70	5	Maksimum	30	5	70	70	
5		3				Minumum	2	1	1	1	
6		15				Say-dolu	5	5			
7						Say-Boş	0				
8						Değer Say	2				
9											

Mavi alanın ilk hücresi hangisidir?

- A) C2
- B) D2
- C) A3
- D) B2

13.

	A	B	C	D	E	F	G	H	I	J	K
1							Mavi	Yeşil	Sarı	Tüm Renkli Alan	
2		2	5	1	2	Toplama	53	8	81	142	
3		30	1	2	3	Ortalama	10,6	2,66667	16,2	10,92307692	
4		3		70	5	Maksimum	30	5	70	70	
5		3				Minumum	2	1	1	1	
6		15				Say-dolu	5	5			
7						Say-Boş	0				
8						Değer Say	2				
9											

Aşağıdakilerden hangisi mavi alanın son hücresidir?

- A) B3
- B) B2
- C) B6
- D) B7

14.

	A	B	C	D	E	F	G	H	I	J	K
1							Mavi	Yeşil	Sarı	Tüm Renkli Alan	
2		2	5	1	2	Toplama	53	8	81	142	
3		30	1	2	3	Ortalama	10,6	2,66667	16,2	10,92307692	
4		3		70	5	Maksimum	30	5	70	70	
5		3				Minumum	2	1	1	1	
6		15				Say-dolu	5	5			
7						Say-Boş	0				
8						Değer Say	2				
9											

Aşağıdaki hangi formül mavi alanın toplamını ifade eder?

- A) =topla(b2:b6)B) =topla(b3:b6)C) =topla(b1:b3)D) =

15.

İki hücre arası seçimde hangi işaret kullanılır?

- A) virgül(,)B) İki nokta üst üste(:)C) tire (-)D) nokta(.)

16.

	A	B	C	D
1				
2				
3				
4			?	
5				
6				

Excel programında

seçili hücrenin adı aşağıdakilerden hangisidir?

- A) A2
- B) B3
- C) C4
- D) 4C

17.

	A	B	C
1			
2			
3			
4			

Excel programında kırmızı





çember içerisine alınmış aracın görevi nedir?

- A) Satırları seçer
- B) Sütunları seçer
- C) Tüm satır ve sütunları seçer
- D) Görevi yoktur

18. Aşağıdaki seçeneklerden hangisinde hücre adresi doğru olarak yazılmıştır?

- A) A1
- B) AB
- C) 5B
- D) B

19. Excel programının simgesi aşağıdakilerden hangisidir?

- A) 
- B) 
- C) 
- D) 

20. Aşağıdakilerden hangisi yanlıştır?

- A) Excel'de formüller '=' işareti ile başlar.
- B) Excel'de formül yazarken **boşluk** bırakılmaz.
- C) Excel'de formüller, formül çubuğunda görüntülenir.
- D) Excel'de formüller ile sadece çarpma işlemi yapılır.